




..... : الفصل

..... : اسم الطالب/ة

أكتب جملة الضرب المناسبة وأجد الناتج :



..... = ×




..... = ×




..... = ×



..... = ×




..... = ×




..... = ×

ألون المربعات فيما يلي لأحصل على ناتج الضرب :


..... = ٧ × ٤




..... = ٨ × ٢



..... = ١٠ × ١٠



..... = ٥ × ٣



أتمنى لكم التوفيق يا صغاري