

تقييم الأداء :

.....



.....



## تمثيل الدوال الخطية



الصف / .....

الاسم : .....

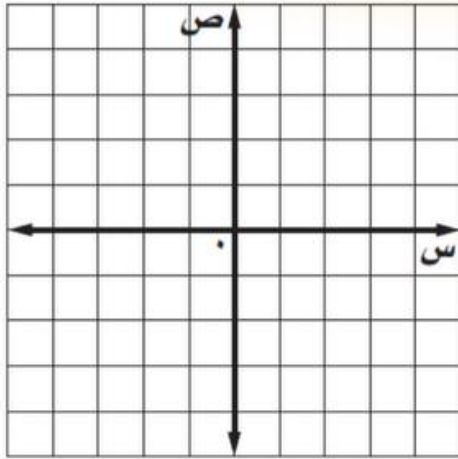
تمثيل الدوال الخطية بيانيا بإستعمال الجداول .

توقعات الأراء:



أكمل جدول الدالة التالي ثم مثلها بيانيا :

السؤال الأول :

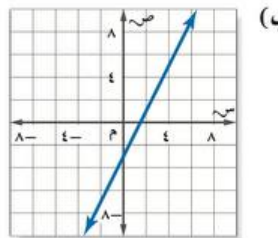
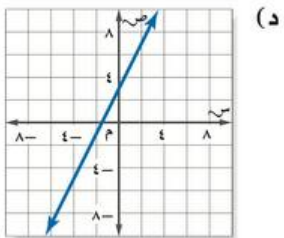
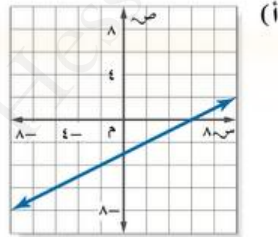
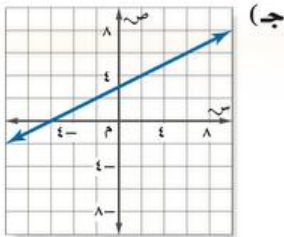


$$د (س) = ٣ + س$$

س	٣ + س	ص	(س ، ص)

أي مستقيم مما يأتي يعد أفضل تمثيل للأزواج المرتبة (س ، ص) الموضحة في الجدول الآتي ؟

السؤال الثاني :



س	٧-	٢-	٢	٩
ص	٦,٥-	٤-	٢-	١,٥



.....



مساحة تحديد الشعور : .....

