


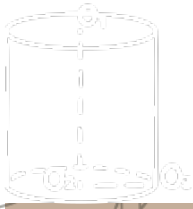
التهيئة



الفصل (٨) القياس : المساحة والحجم



المساحة والحجم






الفكرة العامة: أجد مساحات أشكال هندسية مستوية وحجوم مجسمات ومساحاتها الجانبية والكلية.



**المنشور
الهرم
الأسطوانات
المخروط**

المفردات:



تهيئة

فصل المساحة والحجم



تقويم قبلي :



س٢ : أوجد قيمة $٢أب + ٢بج + ٢أج$ إذا علمت أن:

س١ :

أوجد ناتج الضرب :

$$٨ = ج، ٤ = ب، ٥ = أ \quad \text{④}$$

$$= ١٢ \times ٨ \times \frac{١}{٣} \quad \text{①}$$

$$= ٩ \times ٨ \times \frac{١}{٣} \quad \text{②}$$

س٣ : أوجد قيمة العبارات الجبرية التالية :

$$٧ \times ط \quad \text{⑨}$$

$$١٥ \times ط \quad \text{⑧}$$