



٧-٧) الطرح من الأعداد: ٧، ٨، ٩


الصف:

الاسم:


أستعمل  لأجد ناتج الطرح ، ثم أكتب العدد

الطرح من الأعداد ٧، ٨، ٩

ناتج الطرح	يساوي		ناقص	
	==	٦	-	٧
	==	٥	-	٨
	==	٣	-	٩



أستعمل  لأجد ناتج الطرح ، ثم أكتب العدد



_____ = ٢ - ٧