

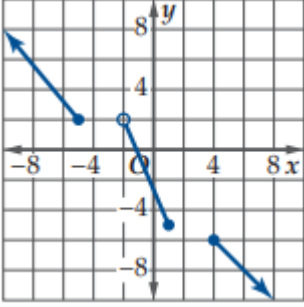
١-٧ العلاقات و الدوال العكسية

الفصل
الأول

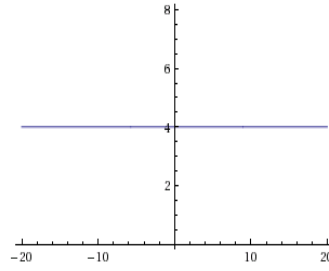
الاسم : الصف :

اليوم التاريخ :

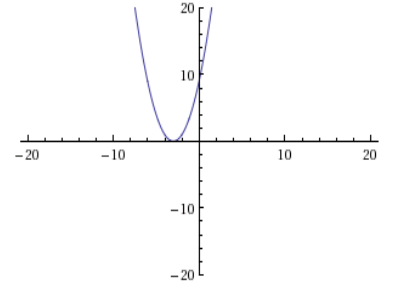
١- طبق اختبار الخط الأفقي لتحديد ما إن كانت الدالة العكسية موجودة أم لا ،



$$y = 4$$



$$y = x^2 + 6x + 9$$



٢- اوجد الدالة العكسية f^{-1} في كل مما يأتي إن أمكن وحدد مجالها و القيود عليه وإذا لم يكن ذلك ممكنا فاكتب غير موجودة .

$$f(x) = 4x^5 - 8x^4$$

$$f(x) = \frac{x - 6}{x}$$

٣- أثبت جبريا أن كلا من الدالتين f, g تمثل دالة عكسية للأخرى .

$$f(x) = 4x + 9 , g(x) = \frac{x - 9}{4}$$

التحصيلي



معكوس الدالة $f(x) = 3x - 1$ هو

A) $f^{-1}(x) = 3x + 1$

B) $f^{-1}(x) = -3x + 1$

C) $f^{-1}(x) = \frac{x+1}{3}$

D) $f^{-1}(x) = x + \frac{1}{3}$